



Krystkuijerke 2026

Hieronder zijn de antwoorden weergegeven van de puzzels die je tijdens het kuijerke tegen bent gekomen.

De eerste puzzel:

NUK IJJ DOEG KEENREN? TWA SI ESZ EKER RIVE?

Hier staat kun jij goed rekenen? Wat is zes keer vier?

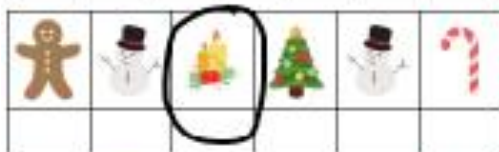
Het antwoord is natuurlijk 24 en dat is de letter r.

6	1	5	1 cijfer is goed en staat op de goede plek
9	3	4	1 cijfer is goed maar staat niet op de goede plek
2	4	6	2 cijfers zijn goed maar staan niet op de goede plek
3	4	7	Geen van de cijfers zijn goed
7	0	9	1 cijfer is goed maar staat niet op de goede plek

De tweede puzzel was de mastermind. Het antwoord hiervan is: 692. Het laatste getal, keer 10 plus 6 is 26 en dat geeft de letter e.



Krystkwiërke 2026



De derde puzzel was de afbeelding van hiernaast. Hier moesten de volgende woorden ingevuld worden:

dennenboom

cadeau

kerstbal

jezus

dineren

De omcirkelde afbeeldingen

vormen het woord: drie. Drie

keer vijf maal 2 is 17 en dat geeft

de letter i.



Krystkwiërke 2026



De vierde puzzel was de rebus van hiernaast met de uitkomst kribbe. Het ging om de eerste letter en dus de k.



De vijfde puzzel was het zoeken naar de engeltjes. Dat waren er 8. Bij dat getal moest 3 opgeteld worden. Het getal 11 staat voor de letter o.





Krystkuijerke 2026



De zesde puzzel wast het zoeken naar een getal aan de hand van het kompas. De omschrijving was


1. NW-NE-SW-SE
2. NE-NW-SW-SE-E-W

Als je een lijn trekt tussen de aangegeven punten dan komt uit de eerste een twee en uit de tweede een zes. Samen het getal 26 en dat staat voor de letter e.

k e r s t m a n
 c a d e a u
 e i e n
 l a m p j e s
 d e n n e b o o m
 k e r s t m a n
 s n e e u w
 k r i b b e
 s t e r r e n
 k e r s t t r u i
 p i e k
 g e s c h e n k


De zevende puzzel geeft van boven naar beneden het getal eenentwintig. Dat getal staat voor de letter s.






Krystkwiërke 2026

Bij de achtste puzzel moest gezocht worden naar het aantal vierkanten. Het totale aantal vierkanten is 9. Dat keer twee min een is 17. Dat geeft de letter i.



De omschrijving van de negende puzzel was:

Vul de lege vakjes hieronder in door twee aangrenzende getallen bij elkaar op te tellen en noteer de som in het vakje er boven. Dus 20 bestaat uit de vakjes 8 en 12.



Hieronder zie je de ingevulde tabel. Het laatste getal dat je invult is de 2. Dat keer 12 is 24. Dat geeft de letter r.



Krystkwiërke 2026



Op de plek van de geparkeerde auto moet het getal 87 komen te staan, 87 delen door 3 minus 3 is 26. Dat geeft het getal c.



De 11e puzzel was hoe vaak zie je hier de letter M. Dat was 8 keer. Acht keer drie min drie is 21. Dat geeft de letter s.

$\star \times \star \times \star = \hat{\star}$
 $\text{🎄} \times \text{🎄} \times \text{🎄} = 27$
 $\text{🎄} \times \star \times \text{🎄} = 18$
 $\hat{\star} + \hat{\star} + \hat{\star} = \underline{\quad}$

De uitkomst van de drie kerstmutsen bij elkaar opgeteld was 24. Het getal 24 min 11 is 13 en dat geeft de letter o.



Krystkwiërke 2026




Zoek de verschillen! Dat waren er 6:
Het gewij, het oor van het hert, de
muts, de letter S, de pootjes van de
slee en het teken onder de slee.
Zes plus een is zeven en dat geeft de
letter j.



Kruiswoordpuzzel

Horizontaal

- 3 De rendieren trekken de kerstman hierop voort
- 4 In dit seizoen vindt de kerst plaats
- 6 Je vindt me in de woonkamer en ik zorg voor sfeer
- 8 Mer kerst vieren we de geboorte van
- 10 Wij zagen ervoor dat het buiten minder donker is



Verticaal

- 1 Hierop schrijf je een mooie kerstwens
- 2 In deze maand vieren wij kerst
- 5 Wij zijn erg breekbaar
- 6 Veel juffen en meesters dragen dit rond kerst
- 7 In bevind me op het topje van de kerstboom

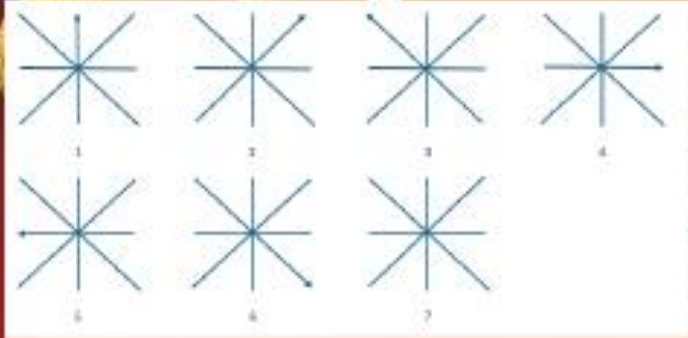
Dit is de ingevulde kruiswoordpuzzel. De rode vakken vormen het woord twee. Dat geeft de letter h.

33	51	17	22	77	48	35
62	31	81	32	25	57	26
91	56	39	84	60	61	82
88	47	64	93	46	74	73
28	95	28	22	15	12	66
75	13	6	31	23	53	20
80	97	75	36	79	86	19
37	24	45	4	11	44	8
2	58	65	72	83	98	13
40	55	59	42	71	99	68

Welk getal komt tevoorschijn wanneer je alle vakjes markeert die opgeteld een oneven getal vormen? Dat is het getal 2. Zet daar een zes achter en je hebt 26, dat geeft de letter 3.



Krystkwiërke



De laatste pijl wijst naar het zuidwesten, links scheef naar voren. De pijl gaat elke keer een stap verder vooruit en dan achteruit. Dus eerst 1 vooruit, dan 2 achteruit, dan 3 vooruit, 4 achteruit, 5 vooruit en tot slot 6 achteruit. Dat gaf het getal 6, gedeeld door 2 is 3. Dat is de letter m.



Zet de tijden eerst digitaal neer:

09:40 02:50 17:50

$940 + 250 - 1750 = -560$

$-560 + 575 = 15$. Dat geeft de letter t.

+ = 10
 + = 14
 - = 6
 + = 14
 = _____

Het getal van de engel is 5. Dat keer 3 is 15 en geeft de letter t.





Bovenstaande letter samen met de letters van de zaken die onderweg geteld moesten worden geven de volgende oplossing:

De mooiste tijd van het jaar, is tijd met elkaar!

We hopen dat jullie tijden het kuijerke een mooie tijd met elkaar hebben gehad en terugkijken op hele mooie feestdagen!

Tot volgend jaar!

Groetjes Sandra & Alic

